

ШИФР 0-09-03

участника школьного этапа всероссийской  
олимпиады школьников по (предмет)

в 2023-2024 учебном году

**Внимание!** Шифровать следует каждую  
страницу Вашей письменной работы.

Ф. И. О. учащегося (в имен. падеже)

Сершенко Анна  
Викторовна

Дата

рождения 22.11.2008

Образовательное учреждение (полное  
название) МБОУ «СОШ №6

Город Мешок

Класс 9Б

Ф. И. О. учителя (полностью)

Вельми Евгение  
Викторовна

Школьный этап Всероссийской олимпиады школьников по обществознанию  
Ханты-Мансийский автономный округ – Югра  
2023-2024 учебный год  
9 класс  
Задания

Время выполнения 90 минут. Максимум баллов за работу - 100

10 60

**ЗАДАНИЕ 1. Выполните тестовые задания**

**1.1 Экономика — это**

- а) наука о законах развития хозяйства и способах его рационального ведения
- б) правила ведения хозяйства
- в) хозяйство конкретной страны, включающее определенные отрасли и виды производства
- г) все перечисленное

**1.2. Разделение общества на различные социальные группы в соответствии с их положением в социальной иерархии – это:**

- а) социальная стратификация
- б) социальная мобильность
- в) социальная интеграция
- г) социальная коммуникация
- д) социальная дифференциация

**1.3 Федеративное устройство государства предполагает**

- а) верховная власть принадлежит единоличному правителю — монарху
- б) относительную правовую независимость административных единиц
- в) управлением государства только из центра, которое делегирует полномочия субъектам и контролирует их полный суверенитет административных единиц, которые делегируют уполномоченному ими же центру вопросы только культурного характера

**1.4 Доход семьи – это:**

- а) Приобретенная иностранная валюта
- б) Купленные в течение года товары и оплаченные услуги
- в) Поступления денежных и натуральных средств за определенный промежуток времени
- г) Полученное наследство

**1.5 Верно ли, что:**

- 1) одной из причин возникновения государства является возникновение неравенства;
- 2) государство вырабатывает и контролирует выполнение моральных правил?
- а) верно только а
- б) верно только б
- в) верны оба суждения
- г) оба суждения неверны

**1.6 Дети, молодежь, мужчины — это социальные общности, выделяемые по**

- а) территориальному признаку
- б) этническому признаку
- в) демографическому признаку
- г) профессиональному признаку

**1.7 Альтернативная стоимость –это**

- а) Средство удовлетворения потребностей
- б) процесс создания экономических благ
- в) цена потери, на которую идет потребитель
- г) всё полезное для человека.

**1.8 Что не характеризует научное познание?**

- а) выдвижение гипотез
- б) эмоциональность
- в) обобщение в понятиях
- г) эксперимент

**1.9 Что из перечисленного относится к предписанному статусу?**

- а) уровень доходов
- б) уровень образования
- в) национальная принадлежность
- г) род занятий

**1.10. Форма правления, при которой монарх «царствует, но не правит».**

- а) абсолютная монархия
- б) ограниченная монархия
- в) парламентская республика
- г) президентская республика

**ЗАДАНИЕ 2.**

10 40 **Что объединяет понятия, образующие каждый из представленных рядов? Дайте краткий ответ.**

1. Мотив, выдвижение цели, выбор средств, процесс, результат. Деятельность
2. Необходимость в жилье, автомобиле, мебели, одежде, деньгах Требовательность
3. Территория, суверенитет, публичная власть, законотворчество, взимание налогов, гражданство. Государство
4. Вид деятельности, условный характер, направлен на процесс удовольствия, вырабатывает физические и интеллектуальные навыки и социальные компетенции Игра
5. Форма государственного устройства, форма правления, политический режим Формы и режимы государства

**ЗАДАНИЕ 3. Соотнесите понятие и их определения**

10 40

	понятия		определения
1.	Воля <u>и</u> <u>р</u>	а	Истребление отдельных групп населения по расовым национальным, религиозным политическим и иным мотивам.
2.	Производство <u>л</u> <u>т</u>	б	Совокупность людей, объединённых исторически обусловленными формами совместной жизни и деятельности.
3.	Потребности <u>е</u> <u>р</u>	в	Совокупность избирателей конкретного избирательного округа
4.	Классификация <u>г</u>	г	Преследование отдельных групп населения по расовым мотивам.
5.	Нация <u>в</u> <u>т</u>	д	Процесс создания материальных благ, предназначенных для продажи
6.	Общество <u>б</u> <u>т</u>	е	Исторически сложившаяся группа людей, обладающая государственностью.
7.	Суверенитет <u>м</u>	ё	Все то, в чем нуждается человек
8.	Электорат <u>в</u> <u>р</u>	ж	Полная независимость государства от других государств в его внутренних делах и внешних отношениях.
9.	Геноцид <u>р</u> <u>т</u>	з	Разбиение множества объектов на подмножества по определённым признакам
10.	Расизм <u>а</u> <u>т</u>	и	Способность к выбору цели деятельности и внутренним усилиям, необходимым для её осуществления

**ЗАДАНИЕ 4. Решите экономическую задачу.**

10 5

**4.1** Гражданка Соколова купила купальник. На следующий день муж Соколовой подарил ей к 8 Марта такой же купальник. Через два дня после покупки Соколова пришла в магазин и, предъявив кассовый чек, попросила обменять купальник на другой, сообщив, что она даже не успела его надеть. Продавец сказала, что такой товар обмену не подлежит. Правомерен ли отказ продавца? Отказ правомерен т.к. согласно закону о защите потребителей существует список товаров, которые не подлежат возврату или обмену. Эти товары имеют длительный срок службы, в том числе и купальник.

**4.2.** В стране Нидерландов курьер в среднем получает 10 талеров в месяц, а врач в среднем 100 талеров при одинаковом количестве часов работы в месяц. Благодаря каким факторам зарплаты врача и курьера различны? Назовите два таких фактора. Дайте объяснение приведённой ситуации 1. Благодаря тому, что работа врача более трудная и значимая для людей. 2. Профессия врача труднее.

**ЗАДАНИЕ 5.** Заполните таблицу

Производство	Распределение	Обмен	Потребление
2, 8	5, 6	7	1, 3, 4, 10

**Основные сферы экономики**

1. Посещение музея
2. Пошив масок
3. Приобретение абонеента в фитнес зал
4. Поездка на автобусе
5. Составление бюджета государства.
6. Расчет остатка стипендии на неделю.
7. Оплата учебы в колледже.
8. Приобретение курсов верховой езды
9. Выпечка тортов на заказ.
10. Полтора часовое посещение бассейна.

**ЗАДАНИЕ 6.**

Вставьте в текст вместо пропусков соответствующие слова и сочетания слов из приведенного в таблице списка. Впишите в текст порядковые номера выбранных вами слов и сочетаний. Обратите внимание: в списке слов и сочетаний слов больше, чем пропусков в тексте!

« \_\_\_\_ (А) — это форма правления, при которой глава государства является \_\_\_\_ (Б) и сменяемым, а его власть считается производной от избирателей или представительного органа. Если \_\_\_\_ (В) избирается независимо от парламента, является главой государства и правительства, то данная форма правления определяется как \_\_\_\_ (Г) республика. Президент сам назначает \_\_\_\_ (Д) и руководит его деятельностью. В данной республике президент не может распустить \_\_\_\_ (Е) и его нижнюю палату, не может вынести вотум недоверия. Парламент имеет возможность ограничить действия президента и правительства с помощью принимаемых \_\_\_\_ (Ж) и через утверждение бюджета, а в ряде случаев может отстранить президента от должности (нарушение \_\_\_\_ (З), преступление)»

Слова в списке даны в именительном падеже. Каждое слово (словосочетание) может быть использовано только один раз. Выбирайте последовательно одно слово за другим, мысленно заполняя каждый пропуск. Обратите внимание на то, что в списке слов больше, чем вам потребуется для заполнения пропусков.

Список терминов:

1) закон	2) президент	3) республика
4) народный	5) парламент	6) конституция
7) правительство	8) выборный	9) президентская

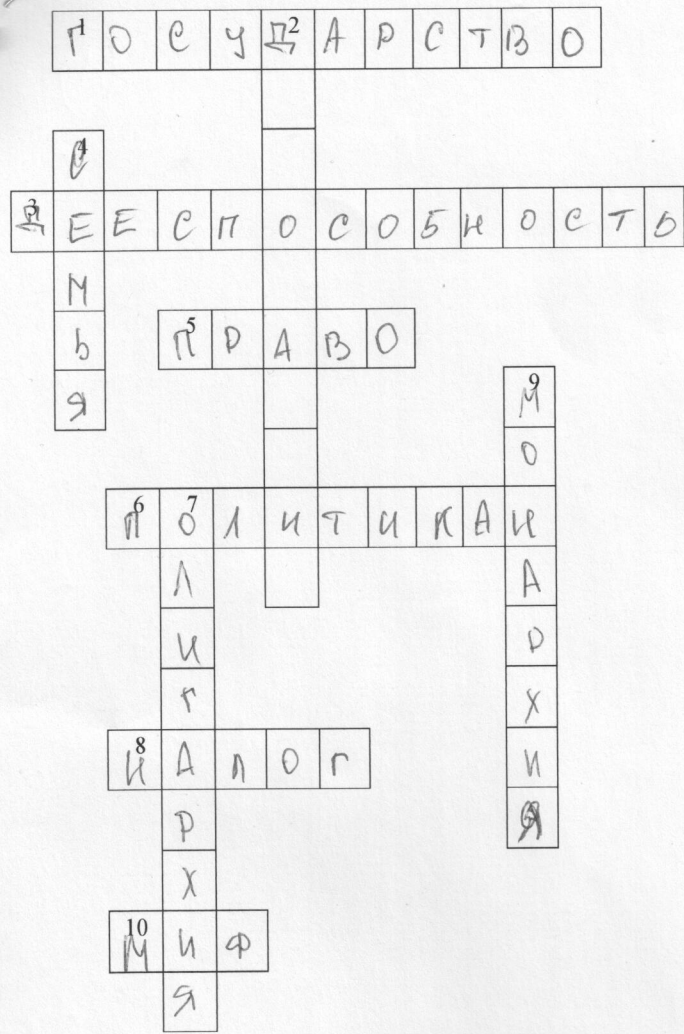
А	Б	В	Г	Д	Е	Ж	З
3	8	2	9	7	5	1	6

10

**ЗАДАНИЕ 7. Решите кроссворд.**

1. Аппарат принуждения, необходимый для поддержания порядка в обществе.
2. Народовластие.
3. Способность своими действиями осуществлять права и нести обязанности.
4. Группа живущих вместе родственников, ведущих общее хозяйство.
5. Правила поведения людей в обществе, закреплённые в законах.
6. Человек, использующий занятие политикой в корыстных целях.
7. Вид автократии, при котором государственная власть находится в руках несменяемой малочисленной группы лиц.
8. Установленный законом платёж в пользу государства.
9. Власть одного человека, передающаяся по наследству.
10. Древнее народное сказание, передающее представления людей о происхождении мира, явлений природы, о богах и героях.

98.



**ЗАДАНИЕ 8. Решите правовые задачи.**

10 10

**8.1** Ирина Г. Вышла из декретного отпуска по уходу за ребенком, в центре занятости ей предложили вакансию парикмахера. Придя на собеседование в организацию, работодатель отказал ей в трудоустройстве, аргументируя это тем, что у Ирины маленький ребенок и возможны частые больничные, что для его предприятия будет невыгодным.

**Правомерен ли отказ, данный Ирине? Обоснуйте ответ.**

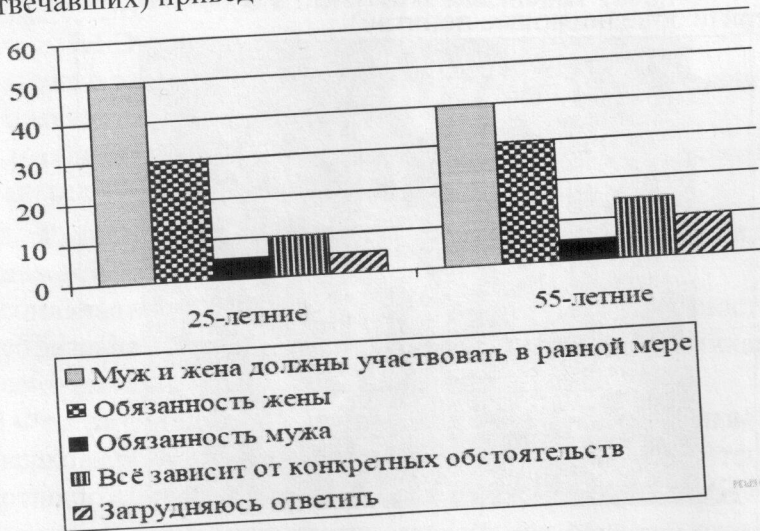
*Нет, правомерен т.к. это можно рассматривать как дискриминацию о семейном положении.*

**8.2** Витя нежелательно высказался в адрес своего одноклассника в сети интернет. Он оклеветал его и выражался нецензурными словами. **Какую юридическую ответственность будет нести Витя и какое наказание ему могут назначить?**

*Согласно части 2 в статье 5.61 Кодекса РФ об административных правонарушениях грозит штрафом от 5 до 10 т.р.*


**ЗАДАНИЕ 9. Проанализируйте диаграмму. В каждом случае Сформулируйте**

по одному выводу: а) о сходстве и б) о различии в позициях групп опрошенных. Выскажите предположение о том, чем объясняется: а) сходство; б) различие.  
**9.1.** Ученые опросили 25-летних и 55-летних граждан страны Z. Им задавали вопрос: «Как Вы считаете, чья обязанность вести домашнее хозяйство?» Результаты опросов (в % от числа отвечающих) приведены на диаграмме.



Большинство людей считают, что муж и жена должны участвовать в равной мере и мнение о том, что это обязанность мужа. Скорее всего, объясняется будущим мнением, а именно различиями мнений.

**9.2** Ученые опросили 23-летних работающих юношей и девушек страны Z. Им задавали вопрос: «Зачем Вы работаете, какова Ваша трудовая мотивация?». Полученные результаты (в % от числа опрошенных) представлены в виде диаграммы.



и юноши и девушки считают, что они работают для того, чтобы обеспечить себе и своей семье. И девушки и юноши это делают. Юноши хотят подняться по карьерной лестнице, а девушки интересуются тем, чем они занимаются.

Всего 67.

ЗАДАНИЕ 10.


10 *60*

Ниже представлены серии изображений. Максимальное количество – 10 баллов.

Все иллюстрации объединяет одно социальное явление (процесс).

А) Назовите социальное явление (процесс).

Б) Распределите изображения на три группы в соответствии с разновидностями названного явления (процесса). И назовите каждую группу (подберите объединяющее понятие).



А) Выбор власти  
 Б) 1- выражение волеизъявления 2- выражение сплоченности 3- выражение политической борьбы  
людей и политический выбор.